
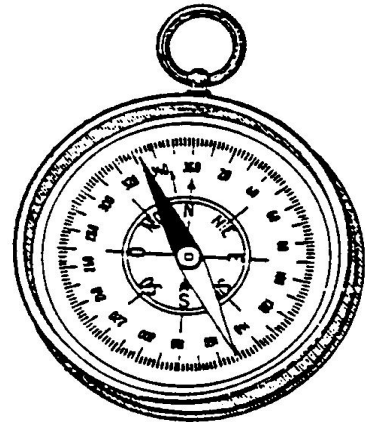


La boussole

La boussole est un instrument qui sert à s'_____.

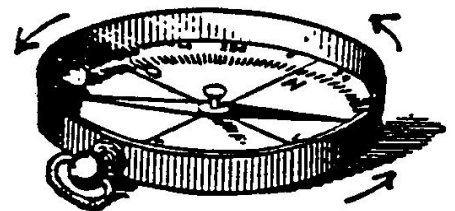
Elle est constituée essentiellement d'une _____ dont la pointe rouge est le pôle_____.

Cette aiguille qui tourne sur un pivot, se déplace dans un cadran divisé en _____ et sur lequel est dessinée la _____ indiquant les points cardinaux.




On utilise aussi des directions intermédiaires. Note-les.

Pour s'orienter à la boussole, on fait tourner le boîtier jusqu'à ce que l'aiguille aimantée de la boussole recouvre la ligne _____ du cadran.



Si on n'a pas de boussole,
il faut savoir que:



A midi, le soleil est au _____.

Le soleil se lève à _____.

Il se couche à _____.

Pour orienter un plan:

1. On fait coïncider la ligne N.S. du cadran avec la ligne verticale du bord de la feuille.
2. On tourne le plan et la boussole jusqu'à ce que l'aiguille recouvre la flèche du cadran.

